


Stimmt das?


1. Überprüfe folgende Rechnungen. Mache einen Haken wenn das Ergebnis stimmt oder schreibe das richtige Ergebnis hin.

$4 + 6 = 10$	<input type="checkbox"/>	$2 + 5 = 7$	<input type="checkbox"/>	$4 + 4 = 9$	<input type="checkbox"/>	$8 - 7 = 2$	<input type="checkbox"/>	$6 + 2 = 9$	<input type="checkbox"/>
$5 + 2 = 8$	<input type="checkbox"/>	$6 - 1 = 4$	<input type="checkbox"/>	$3 + 2 = 6$	<input type="checkbox"/>	$9 - 2 = 7$	<input type="checkbox"/>	$10 - 2 = 8$	<input type="checkbox"/>
$3 - 1 = 1$	<input type="checkbox"/>	$3 + 6 = 8$	<input type="checkbox"/>	$6 + 3 = 9$	<input type="checkbox"/>	$4 + 5 = 9$	<input type="checkbox"/>	$2 + 0 = 3$	<input type="checkbox"/>
$8 + 2 = 9$	<input type="checkbox"/>	$7 - 6 = 0$	<input type="checkbox"/>	$9 - 4 = 4$	<input type="checkbox"/>	$5 - 1 = 4$	<input type="checkbox"/>	$6 - 6 = 1$	<input type="checkbox"/>
$2 + 3 = 6$	<input type="checkbox"/>	$8 - 2 = 5$	<input type="checkbox"/>	$7 + 2 = 8$	<input type="checkbox"/>	$7 - 3 = 4$	<input type="checkbox"/>	$7 + 1 = 10$	<input type="checkbox"/>
$9 - 5 = 4$	<input type="checkbox"/>	$1 + 7 = 8$	<input type="checkbox"/>	$2 + 4 = 6$	<input type="checkbox"/>	$6 + 1 = 7$	<input type="checkbox"/>	$4 + 5 = 8$	<input type="checkbox"/>
$6 + 2 = 8$	<input type="checkbox"/>	$0 + 9 = 9$	<input type="checkbox"/>	$10 - 7 = 3$	<input type="checkbox"/>	$2 + 7 = 8$	<input type="checkbox"/>	$10 - 9 = 0$	<input type="checkbox"/>
$8 - 3 = 5$	<input type="checkbox"/>	$10 - 0 = 1$	<input type="checkbox"/>	$7 + 1 = 8$	<input type="checkbox"/>	$4 + 3 = 6$	<input type="checkbox"/>	$7 + 2 = 9$	<input type="checkbox"/>
$1 + 7 = 9$	<input type="checkbox"/>	$5 + 2 = 8$	<input type="checkbox"/>	$6 - 3 = 2$	<input type="checkbox"/>	$5 - 3 = 4$	<input type="checkbox"/>	$8 - 5 = 2$	<input type="checkbox"/>
$10 - 4 = 5$	<input type="checkbox"/>	$3 + 7 = 10$	<input type="checkbox"/>	$4 + 2 = 6$	<input type="checkbox"/>	$8 - 1 = 7$	<input type="checkbox"/>	$6 - 4 = 1$	<input type="checkbox"/>
$3 - 1 = 2$	<input type="checkbox"/>	$8 + 1 = 8$	<input type="checkbox"/>	$9 - 7 = 3$	<input type="checkbox"/>	$4 + 2 = 8$	<input type="checkbox"/>	$3 + 2 = 5$	<input type="checkbox"/>
$2 + 2 = 4$	<input type="checkbox"/>	$3 + 3 = 5$	<input type="checkbox"/>	$7 - 7 = 1$	<input type="checkbox"/>	$6 + 3 = 10$	<input type="checkbox"/>	$5 + 5 = 10$	<input type="checkbox"/>


2. Zerlege richtig auf 10:



5			0	9	2		10		6
	3	8				4		3	



		4				5	8	0	
7	2		6	9	3				1



3	9			10	2			7	
		0	5			6	1		8