


MIT DEN ZAHLEN UNTER 10

Löse die Rechnungen in den Seifenblasen. Dann male alle Blasen rot aus, die 3 und 6 ergeben. Alle die 2 und 5 ergeben malst du grün aus und alle mit 1, 4, 7 und 9 malst du gelb aus.


5 - 4 7 - 3 1 - 0 3 - 2 6 - 4

8 - 3 9 - 5 7 - 5 5 - 2

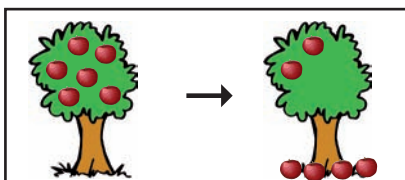
4 - 2 6 - 5 4 - 3 6 - 3 5 - 0

5 - 1 8 - 7 9 - 6

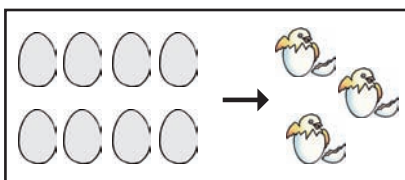
Findest du die Rechnung zu den Rechengeschichten?



R: _____



R: _____



R: _____