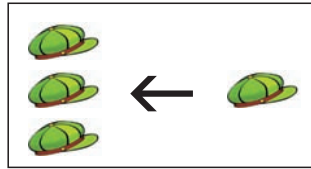

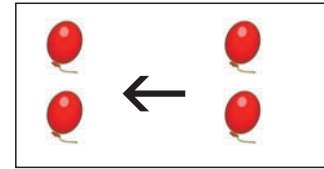


Einfache Addition

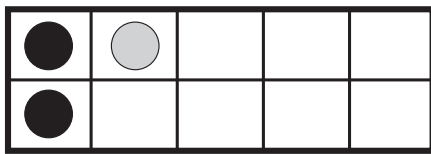


$3 + 1 = \square$

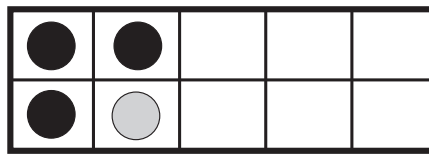


$2 + 2 = \square$

Löse mit Hilfe der Kreise die Aufgaben:



$2 + 1 = \square$




$3 + 1 = \square$




$1 + 1 = \square$


Jetzt rechne erst die Aufgabe, dann male die Kreise in die Kästchen:



$2 + 2 = \square$

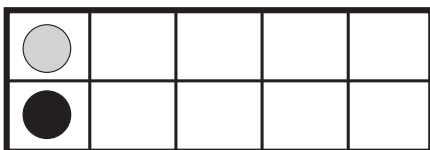


$1 + 2 = \square$

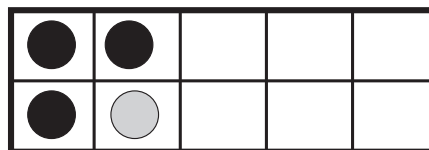


$1 + 3 = \square$

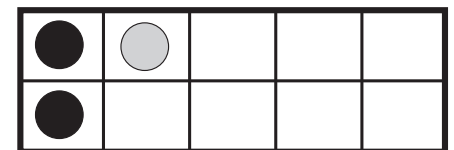
Nun musst du mit Hilfe der Kreise die Aufgabe selbst schreiben und lösen:



$+ = \square$



$+ = \square$



$+ = \square$

Löse erst die Aufgaben, dann male in der Tabelle die Kästchen aus in denen deine Lösungen stehen. Wenn du alles richtig gemacht hast siehst du zum Schluss eine Zahl!

$3 + 1 = \square$	$1 + 1 = \square$
$2 + 2 = \square$	$1 + 3 = \square$
$1 + 2 = \square$	$2 + 1 = \square$

5	6	0	7	6	7
8	7	5	4	7	0
5	6	3	2	6	9
9	4	8	3	5	8
7	8	5	4	6	0
7	6	8	0	5	7